



Доли




К уроку № 57

«Школа России» 3 класс

Устный счёт




На сколько см площадь одного прямоугольника больше, чем площадь другого?



4 см

3 см



3 см

2 см

Решите примеры. Расставьте буквы в порядке возрастания соответствующих ответов и расшифруйте слово.



$$36 : 4 \bullet 5 : 1 = \text{И}$$

$$18 : 2 : 3 \bullet 9 = \text{О}$$

$$6 \bullet 4 : 3 \bullet 4 = \text{Л}$$

$$18 : 3 \bullet 8 \bullet 0 = \text{Д}$$

В 3 пакетах 6 литров сока. Сколько литров сока в 5 таких же пакетах ?



$$6 : 3 \bullet 5 = 10 \text{ (л)}$$



10 л сока

На 4 пальто израсходовали 12 м ткани. Сколько метров ткани нужно на 2 таких же пальто?



$$12 : 4 \bullet 2 = 6 \text{ (м)}$$




6 м

У Серёжи было **100** рублей. Он купил **2** фонарика по **40** рублей. Сколько денег у него осталось?



$$100 - 40 \cdot 2 = 20 \text{ (руб.)}$$



20 рублей

Вычислите значения выражений.



$$38 \cdot 1 + (90 - 42) : 6 =$$

$$7 \cdot 8 - (36 - 4 \cdot 0) : 6 =$$

$$(78 - 22) : 7 \cdot 8 - 4 \cdot 1 =$$

$$6 \text{ дм } 7 \text{ см} = \underline{\quad} \text{ см}$$

$$8 \text{ м } 6 \text{ дм} = \underline{\quad} \text{ дм}$$

$$4 \text{ см } 9 \text{ мм} = \underline{\quad} \text{ мм}$$

$$9 \text{ м} = \underline{\quad} \text{ дм}$$

$$100 \text{ см}^2 = \underline{\quad} \text{ дм}^2$$

Заполните магический квадрат.

сумма 60

17		
	20	
21		



ДОЛИ




Сравните. Что больше?

Торт разрезали на **6** кусков. Какую часть съели?




$$\frac{1}{6}$$

Яблоко разрезали на 4 части. Какую часть съели?



$$\frac{1}{4}$$

На тарелке лежали **5** огурцов и **3** помидора. За обедом съели все помидоры и столько же огурцов. Сколько огурцов осталось на тарелке?













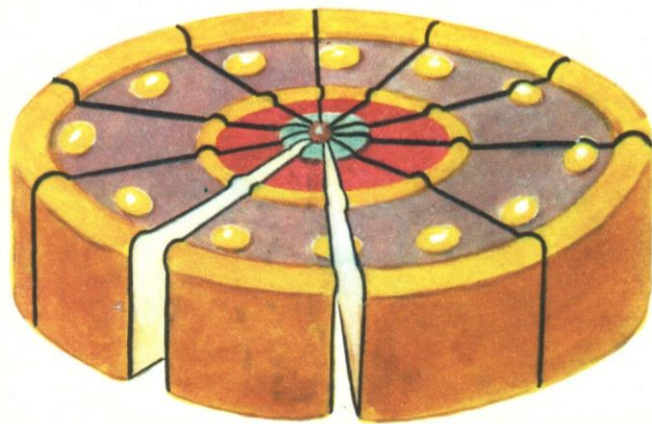


$\frac{1}{7}$



$\frac{1}{8}$





$$\frac{1}{10}$$